

**КРИТЕРИИ И МЕТОДИКА ОЦЕНИВАНИЯ
ВЫПОЛНЕННЫХ ОЛИМПИАДНЫХ ЗАДАНИЙ ШКОЛЬНОГО ЭТАПА
всероссийской олимпиады школьников по истории (5 класс)
2024/2025 учебный год**

Максимальное количество баллов – 80.

Задание 1. Выберите правильный вариант ответа. [10 баллов]

1. Древнейшие люди жили на территории:
 - А) Восточной Африки;
 - Б) Западной Азии;
 - В) Испании.
2. Первое орудие труда первобытного человека:
 - А) Плуг;
 - Б) Мотыга;
 - В) Заостренный камень.
3. Первый металл, из которого древние люди научились делать орудия труда:
 - А) Медь;
 - Б) Бронза;
 - В) Золото.
4. Какое занятие относится к производящему типу хозяйства:
 - А) Собирачество;
 - Б) Земледелие;
 - В) Охота.
5. Первое домашнее животное, прирученное человеком:
 - А) Лошадь;
 - Б) Овца;
 - В) Собака.
6. Как называется объединение семей, живущих в одной местности и отдельно ведущих хозяйство и владеющих своим имуществом:
 - А) Род;
 - Б) Соседская община;
 - В) Человеческое стадо.
7. Столица египетского царства:
 - А) Мемфис;
 - Б) Фивы;
 - В) Ахетатон.
8. Орудие труда, при помощи которого первобытные люди ловили рыбу:
 - А) Лук;
 - Б) Рубило;
 - В) Гарпун.
9. Когда появился человек на земле?
 - А) 2 млн. лет назад;

Б) 100 тыс. лет назад;

В) 10 тыс. лет назад.

10. Выберите причину появления религии:

А) Неумение человеком объяснять явления природы;

Б) Боязнь человека перед стихией природы;

В) Желание человека отличаться от животных.

Ответы к тестовым заданиям:

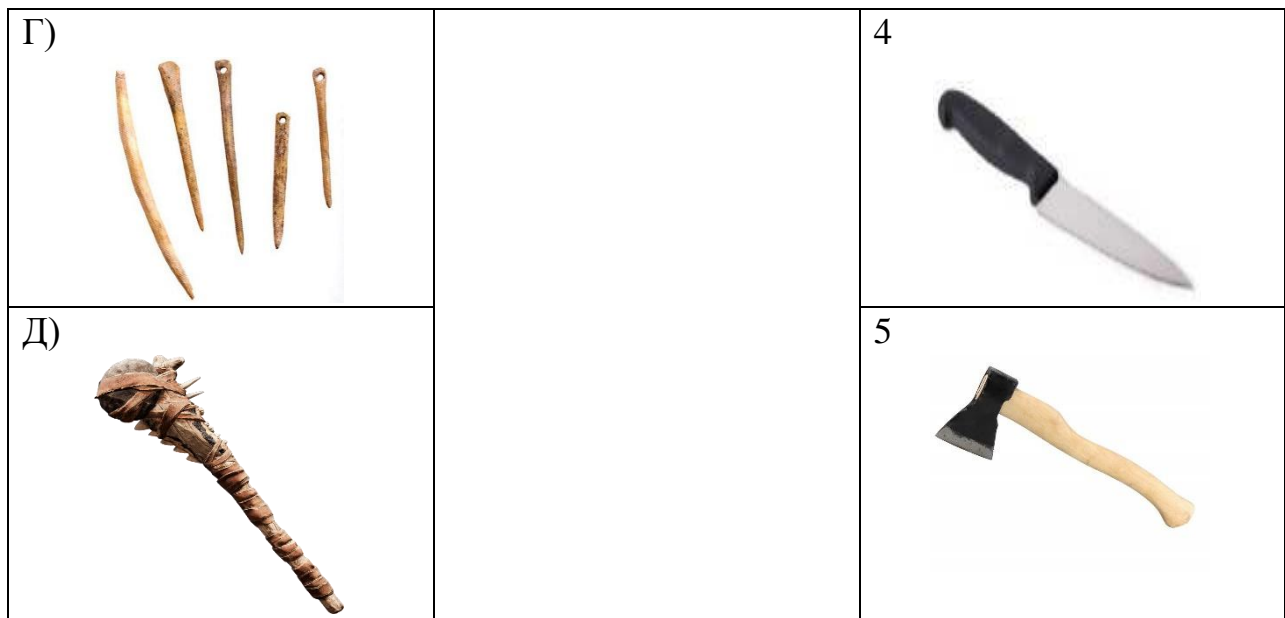
1-а; 2-в; 3-а; 4- б; 5- в; 6- б; 7- а; 8-в; 9-а; 10-а.

По 1 баллу за каждый правильный ответ. Максимальный балл – 10

Задание 2. [10 баллов] Рассмотрите представленные изображения и соедините попарно древние орудия труда с их современными «потомками»

Многие известные нам сегодня орудия труда ведут свою историю с древнейших времён. Тогда они были просты, примитивны и, тем не менее, выполняли свою функцию. Рассмотрите представленные изображения и соедините попарно древние орудия труда с их современными «потомками»

Примитивные орудия труда		Современный аналог
А) 		1 
Б) 		2 
В) 		3 



Ответ:

А	Б	В	Г	Д
4	3	5	2	1

По 2 балла за каждое правильное соответствие. Максимальный балл - 10

Задание 3. [5 баллов] Расставьте годы и века в верной хронологической последовательности.

Расставьте годы и века в верной хронологической последовательности (*впишите в таблицу только цифры 1-5*).

- 1) IV век до н. э. 2) 490 год до н. э. 3) 1945 год н. э. 4) XIII век н.э. 5) 2024 год н.э.

Ответ:

2	1	4	3	5
---	---	---	---	---

Правильная последовательность 5 баллов

Задание 4. [12 баллов] Рассмотрите рисунок. Он взят из самой древней египетской книги.

Рассмотрите рисунок. Он взят из самой древней египетской книги.

А) Укажите название книги

Б) Укажи материал, из которого была изготовлена книга.

В) Опиши событие, изображенное древними египтянами.



Ответ:

Правильный ответ	Балл
А) Название книги - «Книга мертвых»	3
Б) Материал - Папирус	3
В) Изображена сцена суда Осириса.	6
<p>Описывается посмертный суд Осириса над умершим. Осирис (царь и судья загробного мира) сидит на троне со знаками царской власти (с короной, с жезлом и плетью). Наверху изображены 42 бога (очевидно, боги номов). В центре зала стоят весы, на которых боги Тот и Анубис взвешивают сердце покойного (символ души у древних египтян). На одной чашечке весов находится сердце, то есть совесть усопшего, легкая или обремененная грехами, а на другой Правда в виде пера богини Маат или фигурки Маат. Если человек вел на земле праведный образ жизни, то его сердце и перо весили одинаково, если грешил, то сердце весило больше. Оправданного покойного отправляли в загробный рай, грешника поедало чудовище Амаат (лев с головой крокодила).</p>	
<p>Если приведена частичная информация, например, учащийся при анализе текста</p>	
Называет что это - суд	1
Называет, что это - суд Осириса (бога царства мертвых)	1
Правильно находит на рисунке Осириса	1
Называет весы	1
Называет весы и их назначение (взвесить сердце – совесть и Правду)	1+1
Называет помощников Осириса – Тот и Анубис	2
Называет результат суда, понимает моральную составляющую	2
Всего баллов	12

Задание 5. [8 баллов]

Перед вами фотографии, иллюстрирующие деятельность историков.

5.1. (Максимум за задание – 3 балла, по 1 баллу за каждый верный ответ). Выберите номера изображений, связанных с работой историков с письменными источниками



Ответ: 3, 4, 5

По 1 баллу за каждый верный ответ.

5.2. Выбери верные и неверные утверждения. Ответы («да» – «нет») внеси в таблицу.

1. Все профессии ученых, изображенных на картинке, связаны с работой с письменными источниками
2. Работа этих ученых связана с изучением жизни современных людей.
3. В своей работе ученые определяют достоверность источника.
4. В ходе работы ученые проводят раскопки.
5. Ученые этой профессии определяют авторство письменного источника.

1	2	3	4	5
нет	нет	да	да	да

Максимум – 5 баллов. За каждое верное выбранное утверждение – 1 балл.

Задание 6. [16 баллов] Найдите 8 исторических ошибок в сочинении ученика и исправьте их, заполнив таблицу.

Восточная Африка более двух миллионов лет назад. Вот движется группа похожих на обезьян людей. Первобытные люди осваивают новую родину, переселившись из Азии. На горизонте виден ледник, который медленно движется на север. Все спешат уйти от непогоды - небо почернело от туч. Только двое веселых мальчишек увлеченно о чем-то разговаривают. Внезапно повалил сильный снег, все сразу продрогли, даже одежда из звериных шкур не могла защитить людей от холода. Наконец они спрятались в пещере. Тут же достали из-за пазух и стали жевать коренья, орехи и черствый хлеб. Чтобы согреться они разожгли огонь. Вдруг все застали от ужаса: к пещере приближается страшный хищник - огромный динозавр.

Ответ:

Ошибка	Исправление
1. Первобытные люди осваивают новую родину, переселившись из Азии	Человечество зародилось в Восточной Африке
2. На горизонте виден ледник	В Африке не было ледника
3. двое веселых мальчишек увлеченно о чем-то разговаривают	люди еще не умели общаться при помощи слов и речи
4. Внезапно повалил сильный снег	Снег в Восточной Африке не идет
5. даже одежда из звериных шкур не могла защитить людей от холода	Человек обходился без одежды
6. стали жевать коренья, орехи и черствый хлеб	Хлеба еще не было в рационе первобытных людей
7. Чтобы согреться они разожгли огонь	Огонь в этот период не был освоен
8 к пещере приближается страшный хищник - огромный динозавр.	два миллиона лет назад динозавры уже вымерли

Максимум за задание 16 баллов, по 2 балла за каждую найденную и исправленную ошибку.

Задание 7. [5 баллов]

1) В 2000 году археологами был раскопан могильник вождя, где найдены остатки бус из драгоценных камней, золотые и серебряные сосуды. Установлено, что захоронение было сделано за 6240 лет до его находки археологами. В каком году был захоронен вождь? Запишите решение и ответ.

Ответ: $6240 - 2000 = 4240$ год до н.э.

Правильный ответ и решение 2 балла

2) Считается, что самая высокая пирамида Хеопса была построена в 2600 г. до н.э. А самые крупные завоевания совершил фараон Тутмос в 1500 г. до н.э. Сколько лет прошло между этими событиями? Сколько лет назад была построена пирамида Хеопса? Приведите свои вычисления. (3 балла)

Ответ: 1) $2600-1500=1100$

1100 лет прошло между постройкой первой и последних пирамид

2) $2600+2024= 4624$

4624 года назад была построена пирамида Хеопса

Правильные 2 ответа и решение 3 балла

Задание 8. [5 баллов] Прочитайте стихотворение В.Д. Берестова. Выполните задания.

Прочитайте стихотворение. Выполните задания.

Человек – дитя природы, Тут ничто не изменить. И однажды природа решила От животных его отделить! Наделила умом и смекалкой, Научила плоды собирать, А потом подсказала, что палкой Можно лунки в земле раскопать. Положить в них пшеничное семя И почаще его поливать	И тогда вдруг наступит то время, Когда можно зерно собирать. Эволюция шла, убыстрялась. Человек долго палкой копал, А природа, глядя, ухмылялась, Как он всё по чуть-чуть узнавал. И однажды он понял, что мало У него вырастает зерна. Взял широкую кость для начала, Посмотрел, как копает она?	Так в то время возникла лопата, Но она очень ломкой была. Человек взял загнутую палку И настало тут время тесла. Ну а вскоре решил на тесло он Надеть от животных рога, Или острую кость, или камень. И вот это мотыга была.
--	---	--

8.1 Запишите, о возникновении какого занятия древних людей идёт речь (1 балл)

Ответ: земледелье

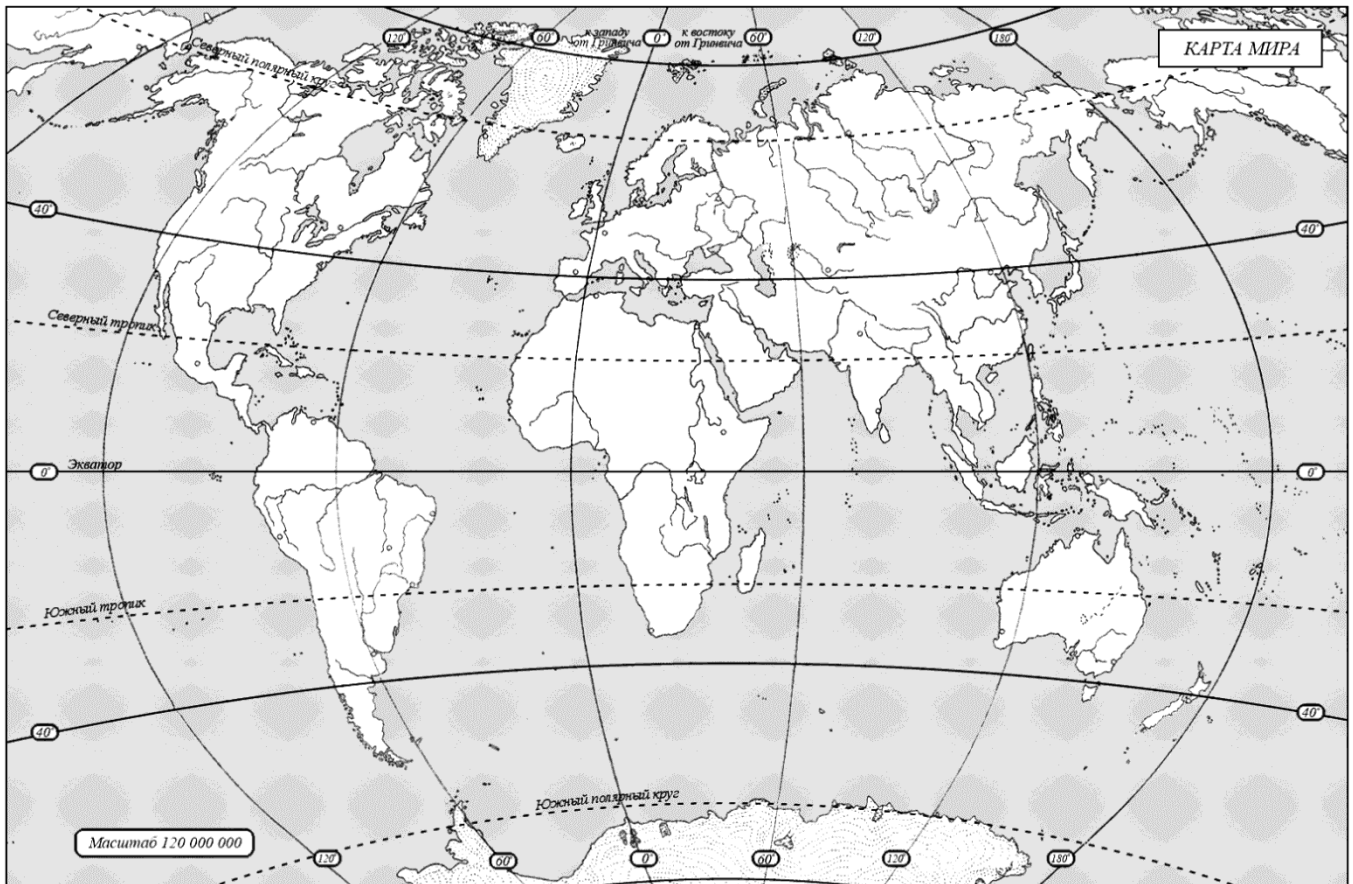
8.2 Укажите, когда это занятие возникло (1 балл)

Ответ: приблизительно 10 тыс. лет назад (принимается любой адекватный ответ)

8.3 Укажите не менее двух других орудий труда, которые человек использовал в этом занятии. (2 балла)

Ответ: серп, плуг

8.4 Напишите название материка, который первобытные герои стихотворения могут назвать своей «прародиной». (1 балл)



Ответ: Африка

Максимум за задание – 5 баллов

Задание 9. [9 баллов] Выясни, насколько ты знаком с историей своей «малой родины» Югры.

9.1. Выберите месторождение нефти, которое находится под дном озера и получило свое название в его честь.

1. Самотлорское нефтяное месторождение
2. Приобское нефтяное месторождение
3. Лянторское нефтегазоконденсатное месторождение
4. Талаканское нефтегазоконденсатное месторождение

Ответ: 1 Самотлорское нефтяное месторождение (2 балла)


9.2. Из чего традиционные народы Севера - ханты шили одежду?

1. Крапива
2. Шкура оленя
3. Шкура рыбы
4. Шкура лягушки

Ответ: 3 (3 балла)

9.3. Соотнеси названия предметов быта коренных народов Севера с изображениями этих предметов, вписав в таблицу их номера

1



2



3



4



Ответ:

бубен	чум	нарты	лямпы
2	1	4	3

За правильно выполненное задание 4 балла.