



**Ответы:**

<b>1</b>	<b>2</b>	<b>3</b>	<b>4</b>	<b>5</b>
<b>1</b>	<b>4</b>	<b>2</b>	<b>2</b>	<b>3</b>

*По 2 балла за правильный ответ. Максимум 10 баллов.*

**Задание 2.** Выберите несколько правильных вариантов ответов на поставленные вопросы. Ответ внесите в таблицу. **(9 баллов)**

**2.1.** Кто из указанных деятелей культуры и науки жил в эпоху Возрождения?

- 1) Уильям Шекспир; 2) Леонардо Да Винчи; 3) Авиценна;  
4) Сандро Боттичелли; 5) Хаммурапи; 6) Микеланджело Караваджо

**2.2.** Какие из категорий населения, перечисленных в «Русской Правде», относятся к зависимым людям?

- 1) печенег; 2) рядович; 3) огнищанин; 4) холоп; 5) черносошный; 6) закуп

**2.3.** Выберите из предложенного перечня события, относящиеся к XV в.

- 1) Восстание в Твери; 2) «Повесть о житии Александра Невского»;  
3) строительство Успенского собора Московского Кремля; 4) Куликовская битва;  
5) «Хождение за три моря»; 6) Стояние на р. Угре

**Ответы:**

<b>1</b>	<b>2</b>	<b>3</b>
<b>124</b>	<b>246</b>	<b>356</b>

*3 балла за полностью верный ответ; 1 балл за ответ с одной ошибкой (не указан один из верных ответов или наряду с указанными всеми верными ответами приводится один неверный). Всего за задания 9 баллов.*

**Задание 3.** Что с исторической точки зрения объединяет перечисленные в ряду имена, названия или даты? **(9 баллов)**

**3.1.** Дмитрий Иванович, Иван III, Александр Тверской.

**Ответ:** боролись с Золотой Ордой **(3 балла)**

**3.2.** 1237 г., 1238 г., 1240 г.

**Ответ:** походы Батые на Русь. **(3 балла)**

**3.3.** Троица, Богоматерь Владимирская, Евангелист Матфей.

**Ответ:** иконы Андрея Рублева. **(3 балла)**

**Задание 4.** Выберите лишний элемент из предложенного списка и поясните свой выбор **(6 баллов)**.

**4.1.** 1415 г., 1478 г., 1485 г., 1510 г.

**Ответ:** 1415 г. — это битва при Азенкуре (100-летняя война), 1478г., 1485 г., 1510 г -это расширение Московского княжества.,

**4.2.** боярин, дружинник, патриарх, холоп.

**Ответ:** холоп — это зависимое население, боярин, дружинник, патриарх — это свободное население Руси.

*По 3 балла за каждый верный ответ (если верно указана ошибка – 1 балл, дано пояснение по другим элементам – 2 балла). Всего – 6 баллов.*

**Задание 5.** Расположите события в хронологической последовательности. Ответ внесите в таблицу. (6 баллов)

А) Смерть Жанны д'Арк; Б) провозглашение Генриха VIII королем; В) создание «Русской Правды»; Г) падение Константинополя; Д) Куликовская битва; Е) Ледовое побоище.

**Ответы:**

<b>1</b>	<b>2</b>	<b>3</b>	<b>4</b>	<b>5</b>	<b>6</b>
<b>В</b>	<b>Е</b>	<b>Д</b>	<b>А</b>	<b>Г</b>	<b>Б</b>

*6 баллов за полностью верную последовательность. 3 балла за последовательность с одной ошибкой. 0 баллов, если допущено более одной ошибки.*

**Задание 6.** Установите соответствие между событиями и древнерусскими князьями, в чье правление они произошли. К каждой позиции первого столбца подберите соответствующую позицию второго. В перечне справа есть лишняя характеристика (8 баллов)

СОБЫТИЯ	ДРЕВНЕРУССКИЕ КНЯЗЬЯ
А) установление нового порядка наследования престола	1) Олег
Б) поход на половцев	2) Иван Калита
В) поход на Византию	3) Ярослав Мудрый
Г) строительство храма Покрова на Нерли	4) Игорь Святославич
	5) Андрей Боголюбский

**Ответ:**

<b>А</b>	<b>Б</b>	<b>В</b>	<b>Г</b>
<b>2</b>	<b>4</b>	<b>1</b>	<b>5</b>

*2 балла за каждое верное соответствие. Максимум 8 баллов.*

**Задание 7.** Прочитайте текст и выберите правильный вариант из предложенного списка. Заполните таблицу (5 баллов)

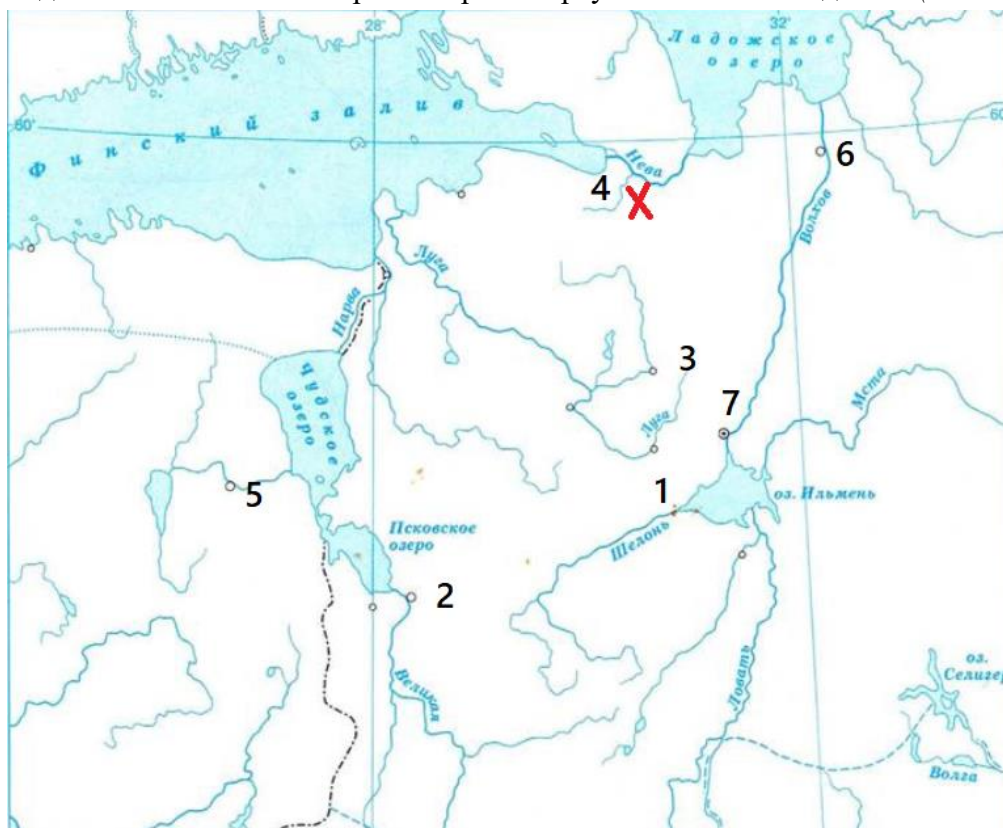
«В тот год сказала дружина Игорю: „Отроки Свенельда изоделись оружием и одеждой, а мы наги. Пойдем, князь, с нами...И послушал их Игорь — пошел к **(7.1. хазарам, половцам, древлянам, полякам)** за **(7.2. смертью, собором, данью)** и прибавил к прежней новую и творили насилие над ними мужи его. Взяв дань, пошел он в свой город. Когда же шел он назад, поразмыслив, сказал своей дружине: „Идите с данью домой, а я возвращусь и похожу еще“. И отпустил дружину свою домой, а сам с малой частью дружины вернулся, желая большего богатства... Те, услышав, что идет снова, держали совет с князем своим **(7.3. Малом, Ярополком, Трувором)**: „Если повадится волк к овцам, то вынесет все стадо, пока не убьют его; так и этот: если не убьем его, то всех нас погубит“. И послали к нему, говоря: „Зачем идешь опять? Забрал уже всю дань“. И не послушал их Игорь; и те, выйдя из города **(7.4. Выборга, Искоростеня, Кракова)** убили Игоря в году **(7.5. - 942,943,944,945)** и дружинников его, так как было их мало...»

**Ответы:**

<b>7.1.</b>	<b>7.2.</b>	<b>7.3.</b>	<b>7.4.</b>	<b>7.5.</b>
<b>древлянам</b>	<b>данью</b>	<b>Малом</b>	<b>Искоростеня</b>	<b>945</b>

*1 балл за каждый верный ответ. Максимум 5 баллов.*

**Задание 8.** Внимательно рассмотрите карту и выполните задания. (13 баллов).



8.1. Напишите название битвы, которая обозначена на карте.

**Ответ: Невская битва (2 балла)**

8.2. Укажите имя полководца, чей поход представлен на карте.

**Ответ: Александр Невский (2 балла)**

8.3. Напишите цифру, которой обозначен город Новгород.

**Ответ: 7 (2 балла)**

8.4. Напишите, когда произошла битва, отмеченная на карте цифрой «4».

**Ответ: 1240 год (2 балла)**

8.5. Верны ли представленные ниже утверждения («да» – «нет»)? Ответы внесите в таблицу.

- 1) Битва, обозначенная на карте, стала одним из этапов русско-шведского противостояния из-за сфер влияния в Восточной Прибалтике.
- 2) Мамай участвовал в битве у Чудского озера.
- 3) В 1242 г. использовалась крепость под цифрой «2» для войны, которая проходила в 1242 году.
- 4) Через Новгород проходил торговый путь «из варяг в греки».
- 5) Хан Узбек передал контроль территории под цифрой «3» Ивану Калите.

**Ответ:**





**(По 1 баллу за каждый верный ответ.)**

1	2	3	4	5
да	нет	да	да	нет

За каждый правильный ответ заданий 8.1.-8.4. – 2 балла, заданий 8.5.-по 1 баллу.

Всего – 13 баллов.

**Задание 9.** Перед вами изображения исторических событий, определите какое событие изображено и укажите его дату с точностью до года. (8 баллов).

<b>1</b>	<b>2</b>
	
<b>3</b>	<b>4</b>
	

**Ответы:**

№	Событие	Дата
<b>1</b>	Крещение Руси	988
<b>2</b>	Создание Русской Правды Ярославом Мудрым	1016
<b>3</b>	Осада и взятие монголо-татарами Рязани	1237
<b>4</b>	Стояние на р.Угре	1480

*По 1 баллу за каждый верный ответ. Максимум – 8 баллов.*

**Задание 10.** По эпизодам жизни исторических персонажей определите, о ком речь. (4 балла)

**10.1.**

- прославившая ее битва произошла под Орлеаном;
- ее объявили колдуньей и предали церковному суду, а четыре с половиной века спустя возвели в ранг католической святой;
- по официальной версии она публично сожжена в Руане 12 мая 1431 года.

**Ответ:** Жанна д'Арк.

**10.2.**

- Объединял русские земли вокруг Москвы;
- «Собиратель земли русской»;
- Возвел Успенский собор в 1479 году.

**Ответ:** Иван III.

*По 2 балла за правильный ответ. Всего 4 балла*







**Задание 11.** Заполните таблицу: укажите имя правителя, название архитектурных памятников, которые были заложены или построены во время их правления, город, в котором находится каждый представленный памятник архитектуры. (12 баллов)

**Правители**

<p>1</p> 	<p>2</p> 
<p>3</p> 	<p>4</p> 

**Памятники архитектуры**

<p>1</p> 	<p>2</p> 
<p>3</p> 	<p>4</p> 

**Ответы:**

№ портрета правителя	Имя правителя	№ памятника архитектуры	Название памятника архитектуры	В каком городе находится
1	Иван III	1	Грановитая палата	Москва
2	Владимир Ярославич	3	Софийский собор	Новгород
3	Владимир Мономах	2	Богородице-Рождественский собор	Суздаль
4	Андрей Боголюбский	4	Золотые Ворота	Владимир

*По 1 баллу за каждый компонент. Максимум 12 баллов.*

**Задание 12.** Напишите термин. (4 балла)

**12.1.** Отвоевание испанских земель христианами у мусульман, которое началось практически сразу же после вторжения арабов на Иберийский полуостров




**Ответ:** реконкиста

**12.2.** Принудительный натуральный или денежный сбор с крестьян, взимавшийся помещиком.

**Ответ:** оброк

*По 2 балла за каждый правильный ответ. Максимум 4 балла.*

**Задание 13.** Рассмотрите гербы городов Югры и ответьте на вопросы (6 баллов).

<p><b>А</b></p> 	<p><b>Б</b></p> 
<p><b>В</b></p>	<p><b>Г</b></p> 



**13.1.** Выпишите букву, обозначающую герб города, название которого в переводе означает «рыбное место».

**Ответ: Г**

**13.2.** В каком году был основан этот город, как он называется?

**Ответ: 1594 г., Surgut**

**13.3.** Какие знаменитые люди, которые внесли вклад в развитие города или прославили его, жили (живут) в этом городе? (не меньше двух имен)

**Ответ: Фарман Салманов, Алексей Ашапатов и др. (любые правильные ответы)**

*2 балла за каждый правильный ответ, максимум 6 баллов.*